

МИНОБРНАУКИ РОССИИ
ФЕДЕРАЛЬНОЕ ГОСУДАРСТВЕННОЕ БЮДЖЕТНОЕ ОБРАЗОВАТЕЛЬНОЕ УЧРЕЖДЕНИЕ
ВЫСШЕГО ОБРАЗОВАНИЯ
«БЕЛГОРОДСКИЙ ГОСУДАРСТВЕННЫЙ
ТЕХНОЛОГИЧЕСКИЙ УНИВЕРСИТЕТ им. В.Г.ШУХОВА»
(БГТУ им. В.Г. Шухова)



РАБОЧАЯ ПРОГРАММА
дисциплины (модуля)

Теоретическая механика
(наименование дисциплины, модуля)

направление подготовки:

08.05.01 Строительство уникальных зданий
(шифр и наименование направления бакалавриата, магистра, специальности)

Специализация:

Строительство высотных и большепролетных зданий и сооружений
(наименование образовательной программы (профиль, специализация))

Квалификация

Специалист
(бакалавр, магистр, специалист)

Форма обучения

Очная
(очная, заочная и др.)

Институт Инженерно-строительный

Кафедра Теоретической механики и сопротивления материалов

Белгород 2019

Рабочая программа составлена на основании требований:

- Федерального государственного образовательного стандарта высшего образования по направлению подготовки 08.05.01 Строительство уникальных зданий и сооружений (уровень специалитет), приказ № 483 от 31 мая 2017 г.
- учебного плана, утвержденного ученым советом БГТУ им. В.Г. Шухова в 2019 г.

Составитель (составители): к.т.н., доц.  (А.Н. Дегтярь)
(ученая степень и звание, подпись) (инициалы, фамилия)

Рабочая программа обсуждена на заседании кафедры

« 11 » 04 2019 г., протокол № 10

Заведующий кафедрой:  (А.Н. Дегтярь)
(ученая степень и звание, подпись) (инициалы, фамилия)

Рабочая программа согласована с выпускающей кафедрой
Строительства и городского хозяйства
(наименование кафедры/кафедр)

Заведующий кафедрой: д.т.н., проф.  (Л.А. Сулейманова)
(ученая степень и звание, подпись) (инициалы, фамилия)

« 25 » 04 2019 г.

Рабочая программа одобрена методической комиссией института

« 25 » 04 2019 г., протокол № 9

Председатель канд. техн. наук, доц  (А.Ю. Феоктистов)

1. ПЛАНИРУЕМЫЕ РЕЗУЛЬТАТЫ ОБУЧЕНИЯ ПО ДИСЦИПЛИНЕ

Категория (группа) компетенций	Код и наименование компетенции	Код и наименование индикатора достижения компетенции	Наименование показателя оценивания результата обучения по дисциплине
Теоретическая фундаментальная подготовка	ОПК-1 Способен решать задачи профессиональной деятельности на основе использования теоретических и практических основ естественных и технических наук, а также математического аппарата	ОПК-1.1. Выявление и классификация физических и химических процессов, протекающих на объекте профессиональной деятельности	<p>Знать: Основные модели механики (модель материальной точки, системы материальных точек, абсолютно твердого тела, системы взаимосвязанных твердых тел);</p> <p>Уметь: Применять основные модели механики для моделирования и теоретического исследования</p> <p>Владеть: Методами моделирования задач механики.</p>
		ОПК-1.2. Определение характеристик физического процесса (явления), характерного для объектов профессиональной деятельности, на основе теоретического (экспериментального) исследования	
		ОПК-1.4. Представление базовых для профессиональной сферы физических процессов и явлений в виде математического(их) уравнения(й)	<p>Знать: Основные законы механики и важнейшие следствия из них;</p> <p>Уметь: Применять полученные знания к решению задач статики, кинематики и динамики</p>
		ОПК 1.5. Выбор для решения задач профессиональной деятельности фундаментальных законов, описывающих изучаемый процесс или явление	

<p>Проектирование. Расчетное обоснование</p>	<p>ОПК-6 Способен участвовать в проектировании объектов строительства жилищно-коммунального хозяйства, в подготовке расчетного и технико-экономического обоснований их проектов, участвовать в подготовке проектной документации, в том числе с использованием средств автоматизированного проектирования и вычислительных программных комплексов</p>	<p>ОПК-6.17. Составление расчётной схемы здания (сооружения), определение условий работы элемента строительных конструкций при восприятии внешних нагрузок</p>	<p>Знать: методы решения задач механики; основные аналитические и численные методы исследования движения механических систем (теоремы, принципы)</p> <p>Уметь: Составлять расчетную схему и уравнения равновесия произвольной системы сил; определять положение центра тяжести твердого тела; определять кинематические характеристики движения точки и твердого тела; применять основные теоремы динамики материальной точки и твердого тела при исследовании характера движения этих тел; анализировать полученные результаты.</p> <p>Владеть: Методами расчета простых конструкций на равновесие; Методами расчета характеристик движения точки и твердого тела; Методами исследования движения механических систем.</p>
--	---	--	--

2. МЕСТО ДИСЦИПЛИНЫ В СТРУКТУРЕ ОБРАЗОВАТЕЛЬНОЙ ПРОГРАММЫ

1. Компетенция ОПК-1 Способен решать прикладные задачи в строительной отрасли, используя теорию и методы фундаментальных наук

Данная компетенция формируется следующими дисциплинами.

Стадия	Наименования дисциплины
1.	Высшая математика
2.	Информационные технологии
3.	Физика
4.	Химия
5.	Теоретическая механика
6.	Основы гидравлики и теплотехники
7.	Основы технической механики
8.	Инженерная экология

9.	Механика жидкости и газа
10.	Строительная физика
11.	Строительная механика
12.	Метрология, стандартизация, сертификация и управление качеством
13.	Соппротивление материалов
14.	Динамика и устойчивость сооружений
15.	Теория расчета пластин и оболочек
16.	Подготовка к сдаче и сдача государственного экзамена
17.	Подготовка к процедуре защиты и защита выпускной квалификационной работы

2. Компетенция ОПК-6 Способен осуществлять и организовывать разработку проектов зданий и сооружений с учетом экономических, экологических и социальных требований и требований безопасности, способен выполнять технико-экономическое обоснование проектных решений и сооружений, осуществлять техническую экспертизу проектов и авторский надзор за их соблюдением.

Данная компетенция формируется следующими дисциплинами.

Стадия	Наименования дисциплины
1.	Экономика отрасли
2.	Теоретическая механика
3.	Основы технической механики
4.	Инженерная геология
5.	Инженерная геодезия
6.	Основы архитектуры зданий
7.	Основы строительных конструкций
8.	Основы геотехники
9.	Строительная физика
10.	Механика грунтов
11.	Строительная механика
12.	Технологические процессы в строительстве
13.	Основы организации производства
14.	Соппротивление материалов
15.	Водоснабжение и водоотведение
16.	Теплоснабжение и вентиляция
17.	Электротехника и основы электроснабжения
18.	Железобетонные и каменные конструкции
19.	Металлические конструкции
20.	Технология возведения зданий
21.	Организация, планирование и управление в строительстве
22.	Управление проектами в строительстве
23.	Динамика и устойчивость сооружений
24.	Теория расчета пластин и оболочек
25.	Подготовка к сдаче и сдача государственного экзамена

26.	Подготовка к процедуре защиты и защита выпускной квалификационной работы
-----	--

3. ОБЪЕМ ДИСЦИПЛИНЫ

Общая трудоемкость дисциплины составляет 5 зач. единиц, 180 часов.

Форма промежуточной аттестации дифференцированный зачет

(экзамен, дифференцированный зачет, зачет)

Вид учебной работы	Всего часов	Семестр № 2
Общая трудоемкость дисциплины, час	180	180
Контактная работа (аудиторные занятия), в т.ч.:	73	73
лекции	34	34
лабораторные		
практические	34	34
групповые консультации в период теоретического обучения и промежуточной аттестации	5	5
Самостоятельная работа студентов, включая индивидуальные и групповые консультации, в том числе:	107	107
Курсовой проект		
Курсовая работа		
Расчетно-графическое задание	18	18
Индивидуальное домашнее задание		
Самостоятельная работа на подготовку к аудиторным занятиям (лекции, практические занятия, лабораторные занятия)	53	53
Экзамен	36	36

4. СОДЕРЖАНИЕ ДИСЦИПЛИНЫ

4.1 Наименование тем, их содержание и объем Курс 1 Семестр 2

№ п/п	Наименование раздела (краткое содержание)	Объем на тематический раздел по видам учебной нагрузки, час			
		Лекции	Практические занятия	Лабораторные занятия	Самостоятельная работа на подготовку к аудиторным занятиям
1. Статика					
1.1	Основные понятия и определения статики. Основные аксиомы статики. Задачи статики. Типы связей.	1	-		0,5
1.2	Система сходящихся сил. Сложение сходящихся сил. Проекция силы на ось и на плоскость. Теорема о проекции вектора суммы на ось.. Геометрические и аналитические условия равновесия сходящихся сил на плоскости и в пространстве. Теорема о трех непараллельных силах. Системы статически определимые и неопределимые. Пример решения задач.	2	2		3
1.3	Момент силы относительно центра. Свойства момента силы. Центр параллельных сил. Сложение параллельных сил. Сосредоточенные силы и распределенные нагрузки. Пара сил. Момент пары. Теоремы об эквивалентности и о сложении пар.	3	2		3,5
1.4	Произвольная плоская система сил. Типы связей и их реакции. Условие равновесия плоской системы сил. Понятие о ферме. Методы расчета плоских ферм. Определение усилий в стержнях фермы методом вырезания узлов.	3	4		5,5
1.5	Пространственная система сил. Момент силы относительно оси. Теорема Вариньона о моменте равнодействующей. Теорема о параллельном переносе силы. Приведение системы сил к одному центру. Вычисление главного вектора и главного момента системы. Частные случаи: равнодействующая, пара сил, динамический винт.	3	3		4,5
1.6	Аналитические условия равновесия произвольной системы сил. Центр тяжести.	2	4		7
2. Кинематика					
2.1	Кинематика точки. Способы задания движения точки. Уравнения движения точки и пройденный путь. Определение траектории точки. Скорость точки. Ускорение точки. Оси естественного трехгранника. Касательное и нормальное ускорения.	2	2		3
2.2	Кинематика твердого тела. Поступательное движение. Вращательное движение тела. Уравнение движения.	1	2		2,5

	Угловая скорость и угловое ускорение тела. Скорость и ускорение точки тела. Передаточные механизмы.				
2.3	Плоское движение тела. Уравнения движения. Разложение плоского движения на поступательное и вращательное. Теорема сложения скоростей точек плоской фигуры. Мгновенный центр скоростей (МЦС). Определение скоростей точек с помощью МЦС. Частные случаи определения МЦС.	1	1		1,5
2.4	Сложное движение точки. Абсолютное, относительное и переносное движения точки. Относительные, переносные и абсолютные скорости и ускорения точки. Теорема Кориолиса о сложении ускорений.	1	1		1,5
3. Динамика					
3.1	Динамика точки. Дифференциальные уравнения движения свободной и несвободной материальной точки в декартовых и естественных координатах. Две основные задачи динамики. Решение первой задачи. Решение второй задачи динамики.	2	3		4
3.2	Понятие о колебательном движении: свободные колебания точки, затухающие колебания точки, вынужденные колебания.	1			0,5
3.3	Общие теоремы динамики точки. Количество движения точки. Импульс силы. Вычисление импульса силы. Теорема об изменении количества движения точки в дифференциальной и конечной формах.	2	2		4
3.4	Кинетическая энергия точки. Работа силы. Мощность. Примеры вычисления работы силы: тяжести, упругости, трения. Теорема об изменении кинетической энергии в дифференциальной и конечной формах.	2	1		3
3.5	Динамика механической системы. Механическая система. Момент инерции тела относительно оси. Радиус инерции. Теорема Гюйгенса.	2	1		2
3.6	Теорема о движении центра масс. Закон сохранения движения центра масс. Иллюстрация закона.	2			1
3.7	Количество движения системы. Теорема об изменении количества движения системы. Теорема об изменении кинетического момента системы. Закон сохранения кинетического момента.	2	3		4
3.8	Кинетическая энергия системы. Кинетическая энергия при поступательном, вращательном и плоском движениях тела. Работа силы, приложений к вращающемуся телу. Теорема об изменении кинетической энергии системы.	2	3		4
	ВСЕГО	34	34		55

4.2. Содержание практических (семинарских) занятий

№ п/п	Наименование раздела дисциплины	Тема практического (семинарского) занятия	К-во часов	Самостоятельная работа на подготовку к аудиторным занятиям
семестр № 2				
1.	Статика	Проекция силы на ось. Условие равновесия сходящейся системы сил.	2	2
2.		Определение момента силы относительно центра.	2	2
3.		Равновесие твердого тела с одной неподвижной точкой (сходящаяся система сил).	1	1
4.		Определение реакций опор твердого тела под действием плоской системы сил.	3	3
5.		Расчет плоских ферм. Метод вырезания узлов.	1	1
6.		Расчет плоских ферм. Метод сечений (Риттера).	1	1
7.		Приведение произвольной системы сил к простейшему виду. Определение главного вектора и главного момента произвольной системы сил.	2	2
8.		Произвольная пространственная система сил. Определение реакций опор твердого тела.	3	3
9.	Кинематика	Кинематика точки. Определение скорости и ускорения точки при координатном и естественном способах задания движения.	2	2
10.		Поступательное и вращательного движения твердого тела. Определение кинематических характеристик движения точек вращающегося тела.	2	2
11.		Плоское движение твердого тела. Определение скоростей точек с помощью МЦС.	1	1
12.		Абсолютное, относительное и переносное движения точки. Относительные, переносные и абсолютные скорости и ускорения точки. Теорема Кориолиса о сложении ускорений	1	1
13.	Динамика	Решение прямой задачи динамики.	1	1
14.		Решение обратной задачи динамики.	2	2
15.		Применение общих теорем динамики материальной точки.	3	
16.		Моменты инерции твердых тел.	1	1
17.		Применение теоремы об изменении кинетического момента системы.	3	3
18.		Применение теоремы об изменении	3	3

	кинетической энергии системы.		
		ИТОГО:	34
		ВСЕГО:	34

4.3. Содержание лабораторных занятий

Не предусмотрены учебным планом

4.4. Содержание курсового проекта/работы

Не предусмотрены учебным планом

4.5. Содержание расчетно-графического задания, индивидуальных домашних заданий

В процессе выполнения расчетно-графического задания, индивидуальных домашних заданий осуществляется контактная работа обучающегося с преподавателем. Консультации проводятся в аудитории и/или посредством электронной информационно-образовательной среды университета.

РГЗ № 1 (18 часов)

1. Определение реакций опор твердого тела.
2. Определение усилий в стержнях плоской фермы.
3. Приведение пространственной системы сил к простейшему виду.
4. Определение кинетических характеристик движения точки по заданным уравнениям ее движения.
5. Определение скоростей и ускорений точек вращающегося твердого тела.
6. Интегрирование дифференциальных уравнений движения материальной точки, находящейся под действием постоянных сил.
7. Применение основных теорем динамики к исследованию движения материальной точки.

В результате решения РГЗ студент должен овладеть методами определения реакций связей и уметь применять их при решении поставленных задач, овладеть методами определения кинематических характеристик движения точки и твердого тела. Уметь определять скорость и ускорение точки и точек твердого тела. Овладеть методами решения задач динамики. Уметь определять закон движения точки, записывать дифференциальные уравнения движения и находить закон изменения скорости и закон движения точки и тела.

5. ОЦЕНОЧНЫЕ МАТЕРИАЛЫ ДЛЯ ПРОВЕДЕНИЯ ТЕКУЩЕГО КОНТРОЛЯ, ПРОМЕЖУТОЧНОЙ АТТЕСТАЦИИ

5.1. Реализация компетенций

1 Компетенция ОПК-1 Способен решать прикладные задачи в строительной отрасли, используя теорию и методы фундаментальных наук.

Наименование индикатора достижения компетенции	Используемые средства оценивания
Выявление и классификация физических и химических процессов, протекающих на объекте профессиональной деятельности	<i>защита РГЗ, тестовый контроль, собеседование,</i>
Определение характеристик физического процесса (явления), характерного для объектов профессиональной деятельности, на основе теоретического (экспериментального) исследования	<i>защита РГЗ, тестовый контроль, собеседование, экзамен</i>
Представление базовых для профессиональной сферы физических процессов и явлений в виде математического(их) уравнения(й)	<i>защита РГЗ, тестовый контроль, собеседование, экзамен</i>
Выбор для решения задач профессиональной деятельности фундаментальных законов, описывающих изучаемый процесс или явление	<i>защита РГЗ, тестовый контроль, собеседование, экзамен</i>

ОПК-6 Способен участвовать в проектировании объектов строительства и жилищно-коммунального хозяйства, в подготовке расчетного и технико-экономического обоснований их проектов, участвовать в подготовке проектной документации, в том числе с использованием средств автоматизированного проектирования и вычислительных программных комплексов	ОПК-6.17. Составление расчётной схемы здания (сооружения), определение условий работы элемента строительных конструкций при восприятии внешних нагрузок
--	---

2 Компетенция ОПК-6 Способен участвовать в проектировании объектов строительства и жилищно-коммунального хозяйства, в подготовке расчетного и технико-экономического обоснований их проектов, участвовать в подготовке проектной документации, в том числе с использованием средств автоматизированного проектирования и вычислительных программных комплексов

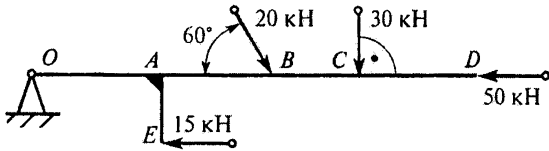
Наименование индикатора достижения компетенции	Используемые средства оценивания
Составление расчётной схемы здания (сооружения), определение условий работы элемента строительных конструкций при восприятии внешних нагрузок	<i>защита РГЗ, тестовый контроль, собеседование, экзамен</i>

5.2. Типовые контрольные задания для промежуточной аттестации

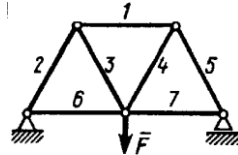
5.2.1. Перечень типовых заданий для экзамена

1. Определить алгебраическую сумму моментов сил относительно точки O ,

учитывая что $OA = AB = BC = CD = AE = 0,5 \text{ м}$.

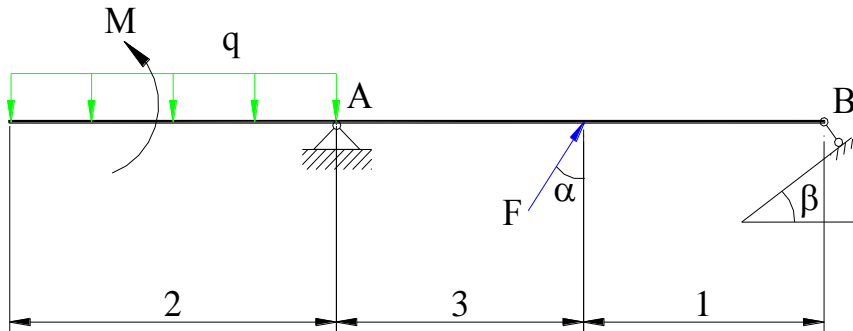


2. Определить усилие в стержне 1. Сила $F = 120 \text{ Н}$, длины всех стержней одинаковы.

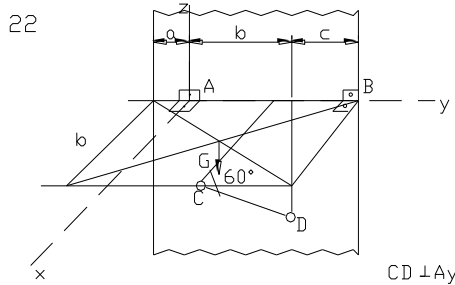


- 3.

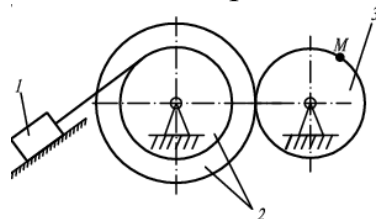
Составить уравнения равновесия и уравнение проверки.



4. Составить уравнения равновесия плиты показанной на рисунке.



5. Даны уравнения движения точки $x = \cos \pi t$, $y = \sin \pi t$. Определить модуль ускорения в момент времени $t = t_1 = 1 \text{ с}$. Построить траекторию, вектор скорости и вектор ускорения точки для заданного момента времени.
6. Груз 1 движется с заданными скоростью и ускорением $v_1 = 5 \text{ м/с}$; $a_1 =$



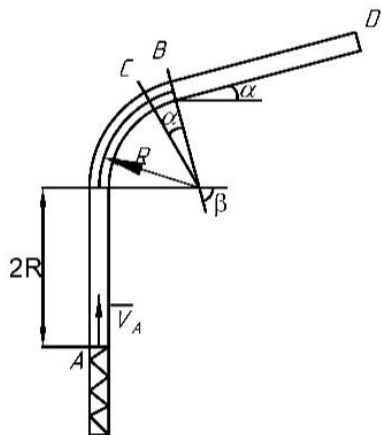
$0,2 \text{ м/с}^2$. Найти скорость и ускорение точки M, если радиусы шкивов $R_2 = 80 \text{ см}$, $r_2 = 40 \text{ см}$, $R_3 = 50 \text{ см}$.

7. Тело массы m падает без начальной скорости на Землю, преодолевая сопротивление воздуха. Сила сопротивления пропорциональна скорости тела.

Коэффициент пропорциональности равен μ ($\mu = \text{const} > 0$).

Полагая поле сил тяжести однородным, определить предельную (максимальную) скорость падения тела.

8. Шарик массой m , принимаемый за материальную точку, движется из положения A внутри трубки, ось которой расположена в вертикальной плоскости. Найти скорость шарика в положениях B . Трением на криволинейных участках траектории пренебречь. Шарик, пройдя путь h_0 , отделяется от пружины.



f – коэффициент трения скольжения,
 τ – время движения на участке BD ,
 c – коэффициент жесткости пружины,
 h_0 – начальная деформация пружины.

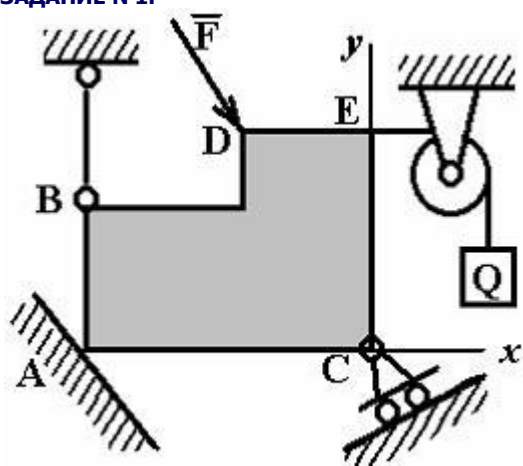
$$m = 1,1 \text{ кг}, V_A = 13 \text{ м/с}, \tau_{BD} = 1,1 \text{ с}, \\ R = 2,2 \text{ м}, f = 0,16, \alpha = 15^\circ, \beta = 45^\circ, \\ h_0 = 0,6 \text{ м}, c = 200 \text{ Н/м}.$$

5.2.2. Перечень контрольных материалов для защиты курсового проекта/ курсовой работы

Не предусмотрено учебным планом

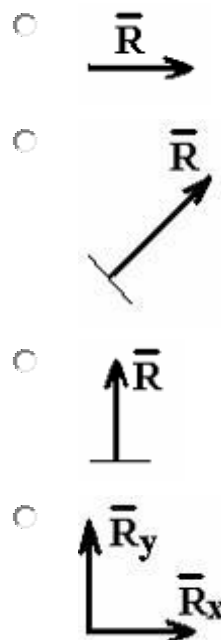
5.3. Типовые контрольные задания (материалы) для текущего контроля в семестре

ЗАДАНИЕ N 1.



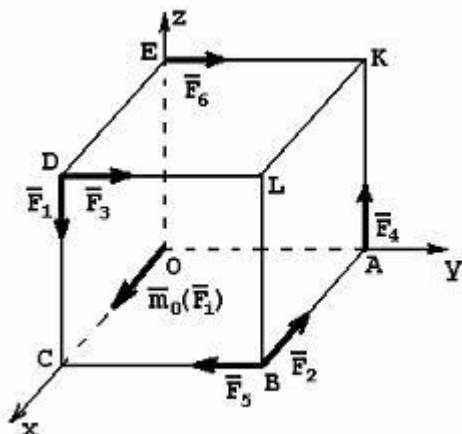
Реакция опоры в точке A правильно направлена на рисунке

ВАРИАНТЫ ОТВЕТОВ:



ЗАДАНИЕ N 2.

К вершинам куба приложены силы: $\vec{F}_1, \vec{F}_2, \vec{F}_3, \vec{F}_4, \vec{F}_5, \vec{F}_6$.



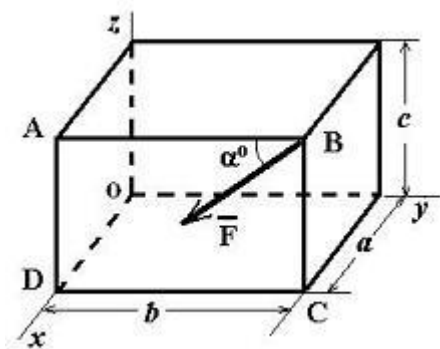
$\vec{m}_0(\vec{F}_1)$ - вектор момента относительно начала координат – это момент силы ...

ВАРИАНТЫ ОТВЕТОВ:

- \vec{F}_1
- \vec{F}_4
- \vec{F}_3
- \vec{F}_6
- \vec{F}_5

ЗАДАНИЕ N 3.

Сила \vec{F} лежит в плоскости ABCD и приложена в точке B.



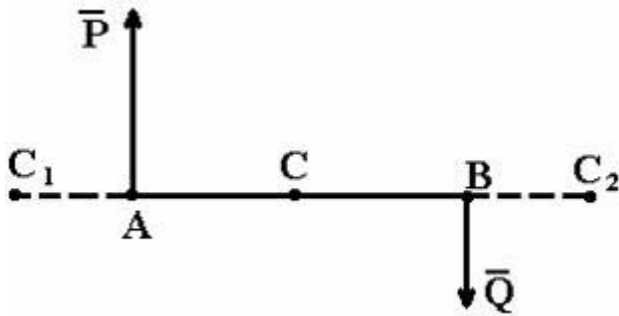
Момент силы \vec{F} относительно оси OY равен...

ВАРИАНТЫ ОТВЕТОВ:

- $F a \sin \alpha$
- $F b \cos \alpha$
- $F c \sin \alpha$
- $F c \cos \alpha$

ЗАДАНИЕ N 4.

К плечу AB приложены две антипараллельные силы: $P=6\text{Н}$, $Q=2\text{Н}$, $AB=8\text{м}$. Точки C, C_1, C_2 , - точки возможного приложения равнодействующей.



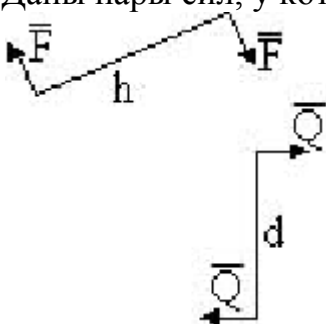
Тогда модуль равнодействующей и расстояние, на котором она приложена, соответственно равны.

ВАРИАНТЫ ОТВЕТОВ:

- $R=4Н, AC_2=12м.$
- $R=4Н, AC_1=4м.$
- $R=8Н, AC_2=12м.$
- $R=8Н, AC_1=4м.$
- $R=4Н, AC=4м.$

ЗАДАНИЕ N 5.

Даны пары сил, у которых $F=3Н, Q=2Н, h=6м, d=5м.$



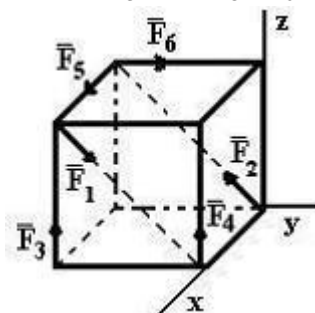
После сложения, сила результирующей пары при плече $l=10м$ будет равна

ВАРИАНТЫ ОТВЕТОВ:

- 3,7Н
- 1,8Н
- 1Н
- 2,8Н
- 5Н

ЗАДАНИЕ N 6.

К вершинам куба, со стороной равной a , приложены шесть сил $F_1=F_2=F_3=F_4=F_5=F_6=F.$



Сумма моментов всех сил системы относительно оси OX равна...

ВАРИАНТЫ ОТВЕТОВ:

- aF
- 2aF
- aF
- 2aF
- 0

ЗАДАНИЕ N 9.

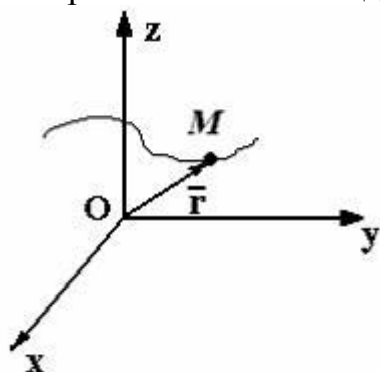
Уравнение приведенное ниже используется при _____ способе задания движения точки: $\vec{r} = \vec{r}(t)$

ВАРИАНТЫ ОТВЕТОВ:

- естественном
- координатном (в декартовой системе координат)
- векторном
- координатном (в полярной системе координат)
- координатном (в цилиндрической системе координат)

ЗАДАНИЕ N 10.

Материальная точка M движется по закону $\vec{r} = 4\vec{i} + \sin t \vec{j} + 3t\vec{k}$.



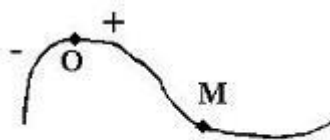
Тогда ускорение точки будет направлено ...

ВАРИАНТЫ ОТВЕТОВ:

- параллельно плоскости YZ
- параллельно оси Y
- перпендикулярно оси Z
- параллельно плоскости XZ
- перпендикулярно оси X

ЗАДАНИЕ N 11.

Движение точки по известной траектории задано уравнением $\sigma = 5 - 1,5t^2$ (м).



OM = σ

Скорость точки в момент времени $t=1$ с равна...(м/с)

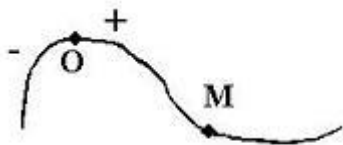
ВАРИАНТЫ ОТВЕТОВ:

- 5
- 3
- 3,5
- 2

ЗАДАНИЕ N 12.

Движение точки по известной траектории задано уравнением $2t+3t^2$ (м).

$\sigma = 1-$



$OM = \sigma$

В момент времени $t=1$ с нормальное ускорение равно $a_n = 2$ (м/с²), радиус кривизны траектории $\rho = \dots$ (м).

ВАРИАНТЫ ОТВЕТОВ:

- 12,5
- 8
- 2
- 0,5

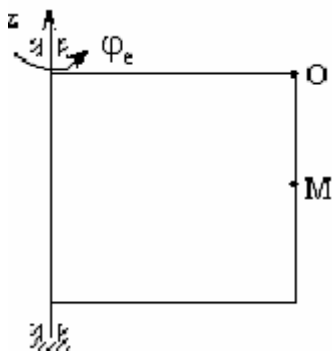
ЗАДАНИЕ N 14.

Прямоугольная пластинка вращается вокруг вертикальной оси по закону

$$\varphi_e = \frac{\pi}{3}t \text{ рад}$$

. По одной из сторон пластинки движется точка по закону

$$OM = 2t \text{ м}$$



Ускорение Кориолиса для точки М, равно...

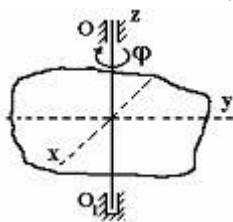
ВАРИАНТЫ ОТВЕТОВ:

- $\frac{2\pi}{3}t \text{ м/с}^2$
- $\frac{2\pi}{3} \text{ м/с}^2$
- 0 м/с^2
- $\frac{2\pi \cdot \sqrt{3}}{3} \text{ м/с}^2$

ЗАДАНИЕ N 15.

Твердое тело вращается вокруг неподвижной оси OO_1 по закону

$$\varphi = (4 + \sqrt{3})^2 - 7t$$



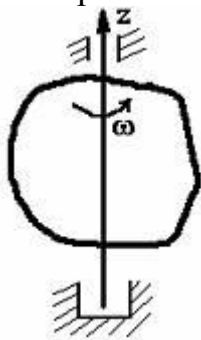
В момент времени $t = 1$ с тело будет вращаться ...

ВАРИАНТЫ ОТВЕТОВ:

- равномерно
- равнозамедленно
- равноускоренно
- замедленно
- ускоренно

ЗАДАНИЕ N 16.

Тело равномерно вращается вокруг оси Z с угловой скоростью $\omega = 6 \text{ с}^{-1}$.



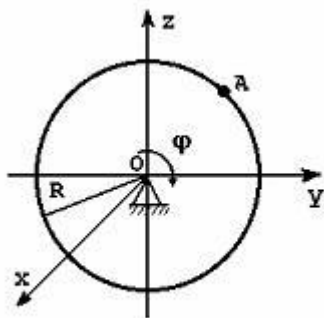
За время $t=2$ с тело повернется на угол

ВАРИАНТЫ ОТВЕТОВ:

- 120°
- 360°
- 3 рад
- 12 рад

ЗАДАНИЕ N 17.

Тело радиуса $R=10$ см вращается вокруг оси Ox по закону $\varphi = 2 + t^3$ рад.



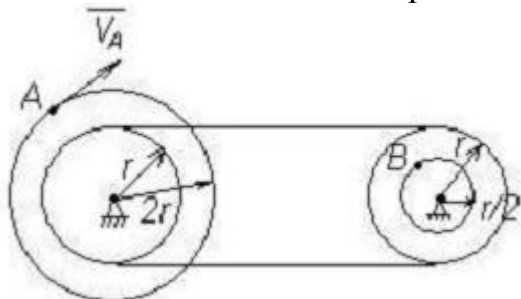
В момент времени $t=2$ с точка А имеет нормальное ускорение, равное...

ВАРИАНТЫ ОТВЕТОВ:

- 1440 см/с²
- 1600 см/с²
- 1000 см/с²
- 360 см/с²

ЗАДАНИЕ N 18.

Точка А одного из шкивов ременной передачи имеет скорость $V_A=20$ см/с.

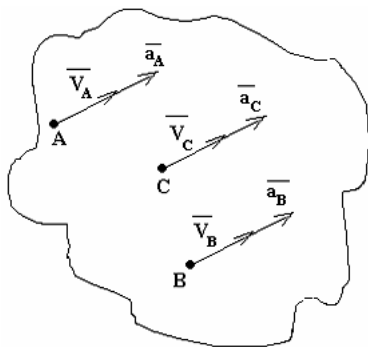


Тогда скорость точки В другого шкива
равна ...

ВАРИАНТЫ ОТВЕТОВ:

- $V_B=40$ см/с
- $V_B=20$ см/с
- $V_B=10$ см/с
- $V_B=5$ см/с

ЗАДАНИЕ N 20.



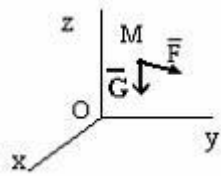
Тело движется так, что точки его имеют направления скорости и ускорений, как показано на рисунке. В этом случае справедливо утверждение, что тело...

ВАРИАНТЫ ОТВЕТОВ:

- ускоренно вращается вокруг неподвижной оси
- движется поступательно по окружности
- движется поступательно, криволинейно, ускоренно
- движется поступательно, прямолинейно, ускоренно

ЗАДАНИЕ N 23.

На свободную материальную точку М массы $m=1$ кг действует, кроме силы тяжести G , сила $\vec{F} = 9,8\vec{k}$ (Н).



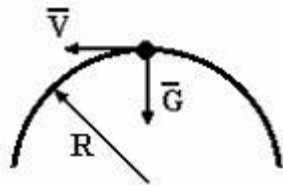
Если в начальный момент точка находилась в покое, то в этом случае она будет...

ВАРИАНТЫ ОТВЕТОВ:

- находиться в покое
- двигаться равномерно вдоль оси OX
- двигаться ускоренно вниз
- двигаться равноускоренно вверх
- двигаться равномерно вверх

ЗАДАНИЕ N 25.

Груз весом $G=3$ кН движется по кольцу радиуса $R=50$ см, находящемуся в вертикальной плоскости.



Если давление на кольцо в верхней точке траектории будет равным 0 ($g=10$ м/с²), то скорость груза в этой точке будет равна $V = \dots$ (м/с)

ВАРИАНТЫ ОТВЕТОВ:

- 4,1
- 1,2
- 12,2
- 22,4
- 2,2

ЗАДАНИЕ N 27.

Материальная точка движется под действием известной силы. Из перечисленных характеристик движущейся точки

- A. масса
- B. скорость
- C. ускорение
- D. сила

для определения кинетической энергии точки необходимы...


ВАРИАНТЫ ОТВЕТОВ:

- A и C
- A и D

- A, C и D
- A и B

ЗАДАНИЕ N 28.

Система состоит из двух материальных точек, каждая из которых обладает массой m и скоростью \bar{v} .



Тогда модуль количества движения данной системы будет равен...

ВАРИАНТЫ ОТВЕТОВ:

- $mV\sqrt{2}$
- 0
- mV
- $2mV$
- $2mV\sqrt{2}$

5.4. Описание критериев оценивания компетенций и шкалы оценивания

При промежуточной аттестации в форме дифференцированного зачета, используется следующая шкала оценивания: 2 – неудовлетворительно, 3 – удовлетворительно, 4 – хорошо, 5 – отлично.

Критериями оценивания достижений показателей являются:

Наименование показателя оценивания результата обучения по дисциплине	Критерий оценивания
Знания	<i>Знание терминов, определений, понятий</i>
	<i>Знание основных законов, теорем, принципов и методов решения задач механики</i>
	<i>Четкость изложения и интерпретации знаний</i>
Умения	<i>Уметь применять на практике полученные знания</i>
Навыки	<i>Владение принципами решения задач механики</i>
	<i>Владение методами моделирования задач механики</i>

Оценка преподавателем выставляется интегрально с учётом всех показателей и критериев оценивания.

Оценка сформированности компетенций по показателю знания.

Критерий	Уровень освоения и оценка			
	2	3	4	5
<i>Знание терминов, определений, понятий</i>	<i>Не знает терминов и определений</i>	<i>Знает термины и определения, но допускает неточности формулировок</i>	<i>Знает термины и определения</i>	<i>Знает термины и определения, может корректно сформулировать их самостоятельно</i>
<i>Знание основных законов, теорем, принципов и методов решения задач механики</i>	Не знает основных законов, теорем, принципов и методов решения задач механики	Знает, но допускает неточности при изложении основных теорем статики; условий равновесия сходящейся, плоской и пространственной систем сил; знает основные виды движения; основные законы динамики точки. Рассказывает об основных методах решения задач по изученным разделам.	Знает основные теоремы статики; условия равновесия сходящейся, плоской и пространственной систем сил; основные теоремы кинематики; виды движения; основные теоремы и законы динамики точки и системы материальных точек, может изложить методы решения задач по изученным разделам.	Знает основные понятия и аксиомы теоретической механики; основные теоремы статики; условия равновесия сходящейся, плоской и пространственной систем сил; основные теоремы кинематики; виды движения; основные теоремы и законы динамики точки и системы материальных точек, Самостоятельно может изложить методы решения задач по изученным разделам.
<i>Четкость изложения и интерпретации знаний</i>	Не может излагать и интерпретировать полученные знания	Обучающийся допускает неточности при изложении: классификации основных форм и объектов расчетов	Может излагать классификацию основных форм и объектов расчетов; основные понятия и аксиомы теоретической механики;	Исчерпывающе, последовательно, четко и логически стройно излагает классификацию основных форм и объектов расчетов;

Оценка сформированности компетенций по показателю умения.

Критерий	Уровень освоения и оценка			
	2	3	4	5
<i>Уметь применять на практике полученные знания</i>	Не умеет применять на практике полученные знания	Выполняет на практике задачи расчета на равновесие конструкций, но допускает ошибки. может составлять кинематические уравнения и может составлять дифференциальные уравнения движения точки и системы точек допуская неточности.	выполняет на практике расчет на равновесие; может составлять кинематические уравнения и определять основные кинематические характеристики движения; может составлять дифференциальные уравнения движения точки и системы точек	Самостоятельно может применять на практике методы расчета конструкций на равновесие; определять основные кинематические характеристики движения; составлять дифференциальные уравнения движения материальной точки и системы материальных точек; получать конечные уравнения движения точки и системы материальных точек (твердого тела).

Оценка сформированности компетенций по показателю навыки.

Критерий	Уровень освоения и оценка			
	2	3	4	5
<i>Владение принципами решения задач механики</i>	Не владеет принципами решения задач механики	С дополнительной помощью может выполнить переход от реального объекта к расчетной схеме в зависимости от конкретных условий	Может произвести переход от реального объекта к расчетной схеме в зависимости от конкретных условий.	Владеет способами перехода от реального объекта к расчетной схеме в зависимости от конкретных условий, принципами решения задач механики
<i>Владение методами моделирования задач механики</i>	Не владеет методами моделирования и расчета задач механики	С дополнительной помощью может осуществлять расчет простых конструкций на равновесие; Расчет характеристик	Может применять основные методы расчета простых конструкций на равновесие; методами расчета характеристик	Методами моделирования задач механики. Методами расчета простых и составных конструкций на равновесие;

		движения точки;	движения точки; методами исследования движения материальной точки.	Методами расчета характеристик движения точки и твердого тела; Методами исследования движения механических систем.
--	--	-----------------	---	---

6. МАТЕРИАЛЬНО-ТЕХНИЧЕСКОЕ И УЧЕБНО-МЕТОДИЧЕСКОЕ ОБЕСПЕЧЕНИЕ

6.1. Материально-техническое обеспечение

№	Наименование специальных помещений и помещений для самостоятельной работы	Оснащенность специальных помещений и помещений для самостоятельной работы
1.	Специализированная аудитория	Учебная мебель, компьютеры с выходом в интернет, презентационная техника

6.2. Лицензионное и свободно распространяемое программное обеспечение

№	Перечень лицензионного программного обеспечения.	Реквизиты подтверждающего документа
	Не используется в учебном процессе	

6.3. Перечень учебных изданий и учебно-методических материалов

5. *Тарг, С. М.* Краткий курс теоретической механики: учеб. для вузов /С.М. Тарг. — изд. 20-е, стер. — М.: Высш. шк., 2010. — 416 с.
6. Курс теоретической механики [Электронный ресурс] : учебник / Н. Н. Никитин. - Москва : Лань, 2011. - 720 с. Режим доступа: http://e.lanbook.com/books/element.php?pl1_cid=25&pl1_id=1807
7. *Мещерский, И.В.* Задачи по теоретической механике: учеб. пособ. / И.В. Мещерский. — изд. 48-е, стер. — СПб.: изд-во "Лань", 2008. — 448 с.
8. *Мещерский, И.В.* Задачи по теоретической механике: учеб. пособ. / И.В. Мещерский. —Электрон.текстовые данные. - СПб.: изд-во "Лань", 2012. - Режим доступа: http://e.lanbook.com/books/element.php?pl1_id=2786
9. *Яблонский, А.А.* Сборник заданий для курсовых работ по теоретической механике: учеб. пособие для техн. вузов / А.А. Яблонский, С.С. Норейко, С.А. Вольфсон и др.; под ред. А.А. Яблонского. — 13-е изд., стер. — М.: Интеграл-Пресс, 2004. — 384 с.
10. *Воробьев, Н.Д.* Сборник расчетно-графических заданий по теоретической механике с примерами выполнения: учеб. пособие для студентов всех направлений бакалавриата/ Н.Д. Воробьев. — 2-е изд., перераб. и доп. — Белгород: Изд-во БГТУ, 2009. — 274 с
11. *Воробьев, Н.Д.* Сборник расчетно-графических заданий по теоретической механике с примерами выполнения: учеб. пособие для студентов всех направлений бакалавриата/ Н.Д. Воробьев. — Электрон.текстовые данные. - Белгород: Изд-во БГТУ, 2010. - Режим доступа: <https://elib.bstu.ru/Reader/Book/2013040918111192511800002037>
12. *Бать, М.И.* Теоретическая механика в примерах и задачах. Том 1. Статика и кинематика: учеб. пособие/ М.И. Бать, Г.Ю. Джанелидзе, А.С. Кельзон. - Электрон.текстовые данные. - СПб.: "Лань", 2013. - Режим доступа: http://e.lanbook.com/books/element.php?pl1_id=4551
13. *Бать, М.И.* Теоретическая механика в примерах и задачах. Том 2. Динамика: учеб. пособие/ М.И. Бать, Г.Ю. Джанелидзе, А.С. Кельзон. — Электрон.текстовые данные. - СПб.: "Лань", 2013. — Режим доступа: http://e.lanbook.com/books/element.php?pl1_id=4552
14. http://e.lanbook.com/books/element.php?pl1_id=4552
15. *Дегтярь А.Н.* Применение теоремы об изменении кинетического момента к исследованию вращательного движения системы: методические указания к выполнению расчетно-графического задания /А. Н. Дегтярь, И. В. Колмыкова. — Белгород: Изд-во БГТУ, 2011. — 24 с.
16. *Дегтярь А.Н.* Динамика материальной точки: методические указания к выполнению расчетно-графического задания /А. Н. Дегтярь, И. В. Колмыкова. — Белгород: Изд-во БГТУ, 2008. — 20 с.

17. *Воробьев, Н.Д.* Теоретическая механика: учебное пособие / Н. Д. Воробьев, М. Ю. Ельцов, Л. Н. Спиридонова, С. К. Самойлова, А. Н. Дегтярь.– Белгород: Изд-во БГТУ, 2004. – 195 с
18. М.Я. Выгодский. Справочник по высшей математике. Государственное издательство физико-математической литературы. Москва, 1998 и др.

6.4. Перечень интернет ресурсов, профессиональных баз данных, информационно-справочных систем

1. <http://eqworld.ipmnet.ru/>
2. <http://www.teoretmeh.ru/>
3. <http://www.teoretmeh.ru/test.htm>
4. http://exir.ru/termeh/ploskaya_sistema_shodyaschisa_sil.htm
5. <http://www.teoretmeh.ru/lect.html>
6. http://window.edu.ru/resource/959/71959/files/samgtu_meh05.pdf
7. http://window.edu.ru/resource/956/71956/files/samgtu_meh02.pdf
8. <http://teormeh.bstu.ru/shared/attachments/48666>
9. <http://standartgost.ru/>

7. УТВЕРЖДЕНИЕ РАБОЧЕЙ ПРОГРАММЫ

Рабочая программа утверждена на 20 20 /20 21 учебный год
без изменений / с изменениями, дополнениями


Протокол № 7 заседания кафедры от « 15 » мая 20 20 г.

Заведующий кафедрой _____


подпись, ФИО

Петухова А.И.

Директор института _____


подпись, ФИО